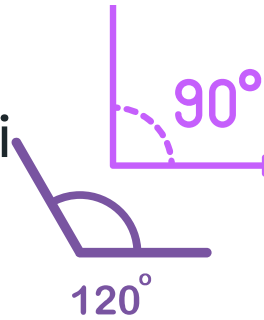


# Quiz sugli Angoli



Dott.ssa Roberta Cannellotto Pedagogista, Game Trainer

Queste Flashcard possono essere utilizzate per il ripasso in coppia o da soli.

- Ripasso Attivo: Leggi la domanda e prova a rispondere senza guardare la risposta. Poi verifica se hai risposto correttamente.
- Ripetizione Spaziata: Ripassa le flash cards a intervalli crescenti (ad esempio, dopo 1 giorno, 3 giorni, dopo 1 settimana) per migliorare la memorizzazione a lungo termine.
- Mescola le Carte: Cambia l'ordine delle carte per evitare di memorizzare le risposte in base alla sequenza.

Dott.ssa Roberta Cannellotto Pedagogista, Game Trainer

## Cos'è un angolo retto?

A. Un angolo che misura esattamente 45 gradi

B. Un angolo che misura esattamente 90 gradi

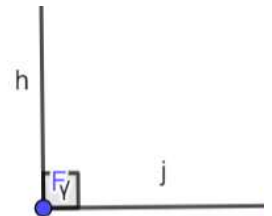
C. Un angolo che misura esattamente 180 gradi

D. Un angolo che misura esattamente 360 gradi

Dott.ssa Roberta Cannellotto

## Cos'è un angolo retto?

B. Un angolo che misura esattamente 90 gradi



Dott.ssa Roberta Cannellotto

Come si chiama un angolo che misura **meno** di 90 gradi?

A. Angolo retto

B. Angolo ottuso

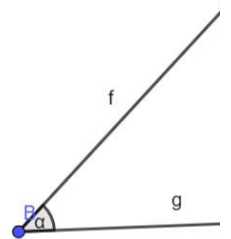
C. Angolo acuto

D. Angolo piatto

Dott.ssa Roberta Cannellotto

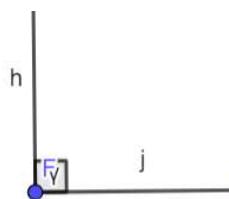
Come si chiama un angolo che misura **meno** di 90 gradi?

C. Angolo acuto



Dott.ssa Roberta Cannellotto

Quanti gradi ha un angolo retto?



A. 180°

B. meno di 90°

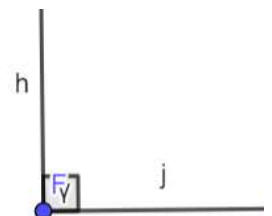
C. 90°

D. 45°

Dott.ssa Roberta Cannellotto

Quanti gradi ha un angolo retto?

C. 90°



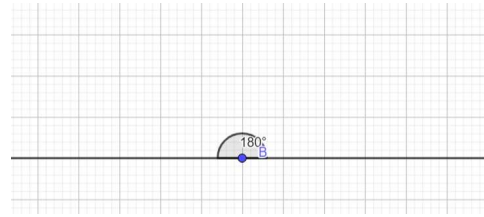
Dott.ssa Roberta Cannellotto

Come si chiama un angolo di  $180^\circ$ ?

- A. Angolo retto
- B. Angolo ottuso
- C. Angolo acuto
- D. Angolo piatto

Dott.ssa Roberta Cannellotto

Come si chiama un angolo di  $180^\circ$ ?



**D. Angolo piatto**

Dott.ssa Roberta Cannellotto

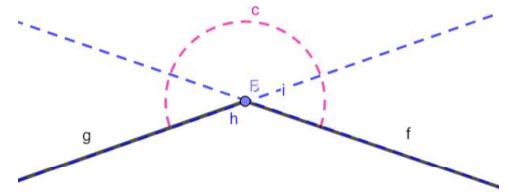
Come si chiama un angolo che misura più di 180 gradi ma meno di 360 gradi?

- A. Angolo acuto
- B. Angolo ottuso
- C. Angolo concavo
- D. Angolo giro

Dott.ssa Roberta Cannellotto

Come si chiama un angolo che misura più di 180 gradi ma meno di 360 gradi?

**C. Angolo concavo**



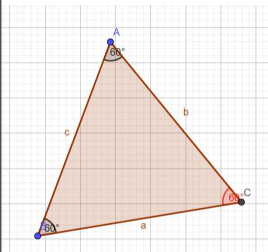
Dott.ssa Roberta Cannellotto

Qual è la somma degli angoli interni di un triangolo?

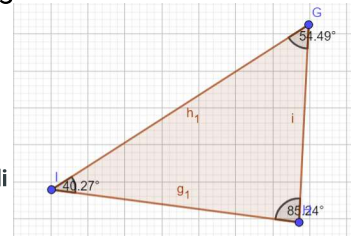
- A. 90 gradi
- B. 180 gradi
- C. 270 gradi
- D. 360 gradi

Dott.ssa Roberta Cannellotto

Qual è la somma degli angoli interni di un triangolo?



**B. 180 gradi**



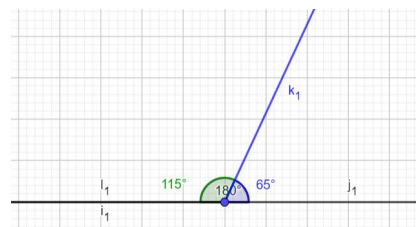
Dott.ssa Roberta Cannellotto

Gli angoli supplementari sono due angoli la cui somma è:

- A. 45 gradi
- B. 90 gradi
- C. 180 gradi
- D. 360 gradi

Dott.ssa Roberta Cannellotto

Gli angoli supplementari sono due angoli la cui somma è:



**C. 180 gradi**

Dott.ssa Roberta Cannellotto

Come si chiama un angolo che misura esattamente 360 gradi?

A. Angolo retto

B. Angolo giro

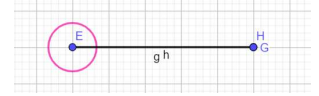
C. Angolo ottuso

D. Angolo piatto

Dott.ssa Roberta Cannellotto

Come si chiama un angolo che misura esattamente 360 gradi?

B. Angolo giro



Dott.ssa Roberta Cannellotto

Gli angoli complementari sono due angoli la cui somma è:

A. 45 gradi

B. 90 gradi

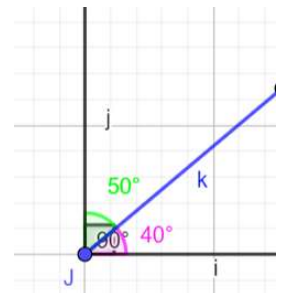
C. 180 gradi

D. 360 gradi

Dott.ssa Roberta Cannellotto

Gli angoli complementari sono due angoli la cui somma è:

B. 90 gradi



Dott.ssa Roberta Cannellotto